

Họ, tên thí sinh:

Số báo danh:

Câu 1: Môđun của số phức $z = 3 - i$ bằng

- A. 8. B. $\sqrt{10}$. C. 10. D. $2\sqrt{2}$.

Câu 2: Trong không gian $Oxyz$, mặt cầu $(S): (x + 1)^2 + (y - 2)^2 + z^2 = 9$ có bán kính bằng

- A. 3. B. 81. C. 9. D. 6.

Câu 3: Điểm nào dưới đây thuộc đồ thị của hàm số $y = x^4 + x^2 - 2$?

- A. Điểm $P(-1; -1)$. B. Điểm $N(-1; -2)$. C. Điểm $M(-1; 0)$. D. Điểm $Q(-1; 1)$.

Câu 4: Thể tích V của khối cầu bán kính r được tính theo công thức nào dưới đây?

- A. $V = \frac{1}{3}\pi r^3$. B. $V = 2\pi r^3$. C. $V = 4\pi r^3$. D. $V = \frac{4}{3}\pi r^3$.

Câu 5: Trên khoảng $(0; +\infty)$, họ nguyên hàm của hàm số $f(x) = x^{\frac{3}{2}}$ là:

- A. $\int f(x)dx = \frac{3}{2}x^{\frac{1}{2}} + C$. B. $\int f(x)dx = \frac{5}{2}x^{\frac{2}{5}} + C$.
 C. $\int f(x)dx = \frac{2}{5}x^{\frac{5}{2}} + C$. D. $\int f(x)dx = \frac{2}{3}x^{\frac{1}{2}} + C$.

Câu 6: Cho hàm số $y = f(x)$ có bảng xét dấu của đạo hàm như sau:

x	$-\infty$		-2		0		1		4		$+\infty$
$f'(x)$		$-$	0	$+$	0	$-$	0	$+$	0	$-$	

Số điểm cực trị của hàm số đã cho là

- A. 3. B. 2. C. 4. D. 5.

Câu 7: Tập nghiệm của bất phương trình $2^x > 6$ là

- A. $(\log_2 6; +\infty)$. B. $(-\infty; 3)$. C. $(3; +\infty)$. D. $(-\infty; \log_2 6)$.

Câu 8: Cho khối chóp có diện tích đáy $B = 7$ và chiều cao $h = 6$. Thể tích của khối chóp đã cho bằng

- A. 42. B. 126. C. 14. D. 56.

Câu 9: Tập xác định của hàm số $y = x^{\sqrt{2}}$ là

- A. \mathbb{R} . B. $\mathbb{R} \setminus \{0\}$. C. $(0; +\infty)$. D. $(2; +\infty)$.

Câu 10: Nghiệm của phương trình $\log_2(x + 4) = 3$ là:

- A. $x = 5$. B. $x = 4$. C. $x = 2$. D. $x = 12$.

Câu 11: Nếu $\int_2^5 f(x)dx = 3$ và $\int_2^5 g(x)dx = -2$ thì $\int_2^5 [f(x) + g(x)]dx$ bằng

- A. 5. B. -5. C. 1. D. 3.

Câu 12: Cho số phức $z = 3 - 2i$, khi đó $2z$ bằng

- A. $6 - 2i$. B. $6 - 4i$. C. $3 - 4i$. D. $-6 + 4i$.

Câu 13: Trong không gian $Oxyz$, mặt phẳng $(P): 2x - 3y + 4z - 1 = 0$ có một vectơ pháp tuyến là:

- A. $\vec{n}_4 = (-1; 2; -3)$. B. $\vec{n}_3 = (-3; 4; -1)$. C. $\vec{n}_2 = (2; -3; 4)$. D. $\vec{n}_1 = (2; 3; 4)$.

Câu 14: Trong không gian $Oxyz$, cho hai vectơ $\vec{u} = (1; 3; -2)$ và $\vec{v} = (2; 1; -1)$. Tọa độ của vectơ $\vec{u} - \vec{v}$ là

- A. $(3; 4; -3)$. B. $(-1; 2; -3)$. C. $(-1; 2; -1)$. D. $(1; -2; 1)$.

Câu 15: Trên mặt phẳng tọa độ, cho $M(2; 3)$ là điểm biểu diễn của số phức z . Phần thực của z bằng

- A. 2. B. 3. C. -3. D. -2.

Câu 16: Tiệm cận đứng của đồ thị hàm số $y = \frac{3x+2}{x-2}$ là đường thẳng có phương trình:

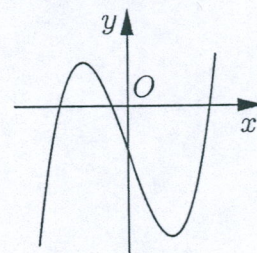
- A. $x = 2$. B. $x = -1$. C. $x = 3$. D. $x = -2$.

Câu 17: Với mọi số thực a dương, $\log_2 \frac{a}{2}$ bằng

- A. $\frac{1}{2} \log_2 a$. B. $\log_2 a + 1$. C. $\log_2 a - 1$. D. $\log_2 a - 2$.

Câu 18: Hàm số nào dưới đây có đồ thị như đường cong trong hình bên?

- A. $y = x^4 - 2x^2 - 1$. B. $y = \frac{x+1}{x-1}$.
C. $y = x^3 - 3x - 1$. D. $y = x^2 + x - 1$.



Câu 19: Trong không gian $Oxyz$, đường thẳng $d: \begin{cases} x = 1 + 2t \\ y = 2 - 2t \\ z = -3 - 3t \end{cases}$ đi qua điểm nào dưới đây?

- A. Điểm $Q(2; 2; 3)$. B. Điểm $N(2; -2; -3)$.
C. Điểm $M(1; 2; -3)$. D. Điểm $P(1; 2; 3)$.

Câu 20: Với n là số nguyên dương, công thức nào dưới đây đúng?

- A. $P_n = n!$. B. $P_n = n - 1$. C. $P_n = (n - 1)!$. D. $P_n = n$.

Câu 21: Cho khối lăng trụ có diện tích đáy B và chiều cao h . Thể tích V của khối lăng trụ đã cho được tính theo công thức nào dưới đây?

- A. $V = \frac{1}{3} Bh$. B. $V = \frac{4}{3} Bh$. C. $V = 6Bh$. D. $V = Bh$.

Câu 22: Trên khoảng $(0; +\infty)$, đạo hàm của hàm số $y = \log_2 x$ là:

- A. $y' = \frac{1}{x \ln 2}$. B. $y' = \frac{\ln 2}{x}$. C. $y' = \frac{1}{x}$. D. $y' = \frac{1}{2x}$.

Câu 23: Cho hàm số $y = f(x)$ có bảng biến thiên như sau:

x	$-\infty$	-2	0	2	$+\infty$				
$f'(x)$		$-$	0	$+$	0	$-$	0	$+$	
$f(x)$	$+\infty$		-1		1		-1		$+\infty$

Hàm số đã cho đồng biến trên khoảng nào dưới đây?

- A. $(0; +\infty)$. B. $(-\infty; -2)$. C. $(0; 2)$. D. $(-2; 0)$.

Câu 24: Cho hình trụ có bán kính đáy r và độ dài đường sinh l . Diện tích xung quanh S_{xq} của hình trụ đã cho được tính theo công thức nào dưới đây?

- A. $S_{xq} = 4\pi r l$. B. $S_{xq} = 2\pi r l$. C. $S_{xq} = 3\pi r l$. D. $S_{xq} = \pi r l$.

Câu 25: Nếu $\int_2^5 f(x)dx = 2$ thì $\int_2^5 3f(x)dx$ bằng

- A. 6. B. 3. C. 18. D. 2.

Câu 26: Cho cấp số cộng (u_n) với $u_1 = 7$ và công sai $d = 4$. Giá trị của u_2 bằng

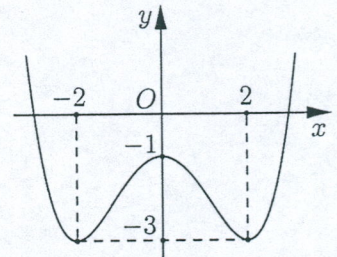
- A. 11. B. 3. C. $\frac{7}{4}$. D. 28.

Câu 27: Cho hàm số $f(x) = 1 + \sin x$. Khẳng định nào dưới đây đúng?

- A. $\int f(x)dx = x - \cos x + C$. B. $\int f(x)dx = x + \sin x + C$.
 C. $\int f(x)dx = x + \cos x + C$. D. $\int f(x)dx = \cos x + C$.

Câu 28: Cho hàm số $y = ax^4 + bx^2 + c$ ($a, b, c \in \mathbb{R}$) có đồ thị là đường cong trong hình bên. Giá trị cực đại của hàm số đã cho bằng

- A. 0. B. -1.
 C. -3. D. 2.



Câu 29: Trên đoạn $[1; 5]$, hàm số $y = x + \frac{4}{x}$ đạt giá trị nhỏ nhất tại điểm

- A. $x = 5$. B. $x = 2$. C. $x = 1$. D. $x = 4$.

Câu 30: Hàm số nào dưới đây nghịch biến trên \mathbb{R} ?

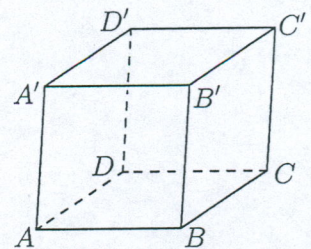
- A. $y = -x^3 - x$. B. $y = -x^4 - x^2$. C. $y = -x^3 + x$. D. $y = \frac{x+2}{x-1}$.

Câu 31: Với mọi a, b thỏa mãn $\log_2 a - 3\log_2 b = 2$, khẳng định nào dưới đây đúng?

- A. $a = 4b^3$. B. $a = 3b + 4$. C. $a = 3b + 2$. D. $a = \frac{4}{b^3}$.

Câu 32: Cho hình hộp $ABCD.A'B'C'D'$ có tất cả các cạnh bằng nhau (tham khảo hình bên). Góc giữa hai đường thẳng $A'C'$ và BD bằng

- A. 90° . B. 30° .
 C. 45° . D. 60° .



Câu 33: Nếu $\int_1^3 f(x)dx = 2$ thì $\int_1^3 [f(x) + 2x]dx$ bằng

- A. 20. B. 10. C. 18. D. 12.

Câu 34: Trong không gian $Oxyz$, cho điểm $M(2; -5; 3)$ và đường thẳng $d: \frac{x}{2} = \frac{y+2}{4} = \frac{z-3}{-1}$. Mặt phẳng đi qua M và vuông góc với d có phương trình là:

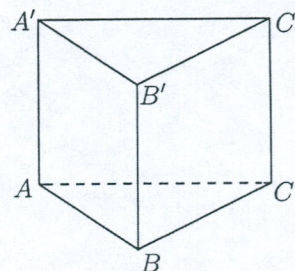
- A. $2x - 5y + 3z - 38 = 0$. B. $2x + 4y - z + 19 = 0$.
 C. $2x + 4y - z - 19 = 0$. D. $2x + 4y - z + 11 = 0$.

Câu 35: Cho số phức z thỏa mãn $i\bar{z} = 5 + 2i$. Phần ảo của z bằng

- A. 5. B. 2. C. -5. D. -2.

Câu 36: Cho hình lăng trụ đứng $ABC.A'B'C'$ có đáy ABC là tam giác vuông cân tại B và $AB = 4$ (tham khảo hình bên). Khoảng cách từ C đến mặt phẳng $(ABB'A')$ bằng

- A. $2\sqrt{2}$. B. 2.
C. $4\sqrt{2}$. D. 4.



Câu 37: Từ một hộp chứa 16 quả cầu gồm 7 quả màu đỏ và 9 quả màu xanh, lấy ngẫu nhiên đồng thời hai quả. Xác suất để lấy được hai quả có màu khác nhau bằng

- A. $\frac{7}{40}$. B. $\frac{21}{40}$. C. $\frac{3}{10}$. D. $\frac{2}{15}$.

Câu 38: Trong không gian $Oxyz$, cho ba điểm $A(2; -2; 3)$, $B(1; 3; 4)$ và $C(3; -1; 5)$. Đường thẳng đi qua A và song song với BC có phương trình là:

- A. $\frac{x-2}{2} = \frac{y+4}{-2} = \frac{z-1}{3}$. B. $\frac{x+2}{2} = \frac{y-2}{-4} = \frac{z+3}{1}$.
C. $\frac{x-2}{4} = \frac{y+2}{2} = \frac{z-3}{9}$. D. $\frac{x-2}{2} = \frac{y+2}{-4} = \frac{z-3}{1}$.

Câu 39: Có bao nhiêu số nguyên x thỏa mãn $(4^x - 5 \cdot 2^{x+2} + 64)\sqrt{2 - \log(4x)} \geq 0$?

- A. 22. B. 25. C. 23. D. 24.

Câu 40: Cho hàm số $y = f(x)$ có bảng biến thiên như sau:

x	$-\infty$	-1	2	$+\infty$			
$f'(x)$		+	0	-	0	+	
$f(x)$	$-\infty$		1		-5		$+\infty$

Số nghiệm thực phân biệt của phương trình $f'(f(x)) = 0$ là

- A. 3. B. 4. C. 5. D. 6.

Câu 41: Cho hàm số $y = f(x)$ có đạo hàm là $f'(x) = 12x^2 + 2, \forall x \in \mathbb{R}$ và $f(1) = 3$. Biết $F(x)$ là nguyên hàm của $f(x)$ thỏa mãn $F(0) = 2$, khi đó $F(1)$ bằng

- A. -3 . B. 1. C. 2. D. 7.

Câu 42: Cho khối chóp đều $S.ABCD$ có $AC = 4a$, hai mặt phẳng (SAB) và (SCD) vuông góc với nhau. Thể tích của khối chóp đã cho bằng

- A. $\frac{16\sqrt{2}}{3}a^3$. B. $\frac{8\sqrt{2}}{3}a^3$. C. $16a^3$. D. $\frac{16}{3}a^3$.

Câu 43: Trên tập hợp các số phức, xét phương trình $z^2 - 2mz + 8m - 12 = 0$ (m là tham số thực). Có bao nhiêu giá trị nguyên của m để phương trình đó có hai nghiệm phân biệt z_1, z_2 thỏa mãn $|z_1| = |z_2|$?

- A. 5. B. 6. C. 3. D. 4.

Câu 44: Gọi S là tập hợp tất cả các số phức z sao cho số phức $w = \frac{1}{|z| - z}$ có phần thực bằng $\frac{1}{8}$. Xét

các số phức $z_1, z_2 \in S$ thỏa mãn $|z_1 - z_2| = 2$, giá trị lớn nhất của $P = |z_1 - 5i|^2 - |z_2 - 5i|^2$ bằng

- A. 16. B. 20. C. 10. D. 32.

Câu 45: Cho hàm số $f(x) = 3x^4 + ax^3 + bx^2 + cx + d$ ($a, b, c, d \in \mathbb{R}$) có ba điểm cực trị là $-2, -1$ và 1 . Gọi $y = g(x)$ là hàm số bậc hai có đồ thị đi qua ba điểm cực trị của đồ thị hàm số $y = f(x)$. Diện tích hình phẳng giới hạn bởi hai đường $y = f(x)$ và $y = g(x)$ bằng

- A. $\frac{500}{81}$. B. $\frac{36}{5}$. C. $\frac{2932}{405}$. D. $\frac{2948}{405}$.

Câu 46: Trong không gian $Oxyz$, cho điểm $A(-4; -3; 3)$ và mặt phẳng $(P): x + y + z = 0$. Đường thẳng đi qua A , cắt trục Oz và song song với (P) có phương trình là:

- A. $\frac{x-4}{4} = \frac{y-3}{3} = \frac{z-3}{-7}$. B. $\frac{x+4}{4} = \frac{y+3}{3} = \frac{z-3}{1}$.
 C. $\frac{x+4}{-4} = \frac{y+3}{3} = \frac{z-3}{1}$. D. $\frac{x+8}{4} = \frac{y+6}{3} = \frac{z-10}{-7}$.

Câu 47: Cho khối nón đỉnh S có bán kính đáy bằng $2\sqrt{3}a$. Gọi A và B là hai điểm thuộc đường tròn đáy sao cho $AB = 4a$. Biết khoảng cách từ tâm của đáy đến mặt phẳng (SAB) bằng $2a$, thể tích của khối nón đã cho bằng

- A. $\frac{8\sqrt{2}}{3}\pi a^3$. B. $4\sqrt{6}\pi a^3$. C. $\frac{16\sqrt{3}}{3}\pi a^3$. D. $8\sqrt{2}\pi a^3$.

Câu 48: Có bao nhiêu số nguyên a sao cho ứng với mỗi a , tồn tại ít nhất bốn số nguyên $b \in (-12; 12)$ thỏa mãn $4^{a^2+b} \leq 3^{b-a} + 65$?

- A. 4. B. 6. C. 5. D. 7.

Câu 49: Trong không gian $Oxyz$, cho mặt cầu $(S): (x-4)^2 + (y+3)^2 + (z+6)^2 = 50$ và đường thẳng $d: \frac{x}{2} = \frac{y+2}{4} = \frac{z-3}{-1}$. Có bao nhiêu điểm M thuộc trục hoành, với hoành độ là số nguyên, mà từ M kẻ được đến (S) hai tiếp tuyến cùng vuông góc với d ?

- A. 29. B. 33. C. 55. D. 28.

Câu 50: Cho hàm số $y = f(x)$ có đạo hàm là $f'(x) = x^2 + 10x, \forall x \in \mathbb{R}$. Có bao nhiêu giá trị nguyên của tham số m để hàm số $y = f(x^4 - 8x^2 + m)$ có đúng 9 điểm cực trị?

- A. 16. B. 9. C. 15. D. 10.

----- HẾT -----